

Lección 3

La Geografía de Palestina — Parte I

Si observáramos Palestina desde la altura en el aire, podríamos distinguir los sobresalientes rasgos geográficos de la tierra. Hay distintas zonas paralelas corriendo de norte a sur. El Mar Mediterráneo forma la frontera occidental. Una costa relativamente plana y fértil reposa a lo largo del Mar. Luego hay una larga cadena de montañas que forman la región de colinas occidental. Inmediatamente más allá de la región de colinas está la majestuosa fisura del Valle del Jordán. Al oriente del valle está la margen desgastada de una alta altiplanicie. Luego, cerca de 25 millas (40 kms.) desde el Jordán, surge de nuevo la altiplanicie para formar la llanura del gran Desierto Árabe.

Ahora observemos cada zona con más detalle.

Mapa #1 – Palestina: Rasgos Físicos

Estamos listos para nuestro primer mapa. Márquelo Palestina: Rasgos Físicos.

Numérela Mapa #1.

Marque las direcciones – norte, sur, oriente y occidente.

Use la escala de millas y kilómetros y mida las distancias. Familiarícese con la forma en que se observa este mapa.

Este primer mapa no enfatizará quién poseía la tierra, sino más bien los rasgos físicos permanentes.

Coloree el mapa y marque sus rasgos a medida que cada punto sea discutido en el texto.

El Mar Mediterráneo

Este gran mar interior era el único océano conocido por los israelitas, de esta manera era usualmente llamado simplemente *el mar* o *el gran mar*. Los romanos lo nombraron de los términos latinos *medius*, significando medio, y *terra* significando tierra, de esta manera “en medio de la tierra”, “centro del mundo”. Ciertamente era el centro del imperio romano.

La ribera Cananea es un ejemplo interesante del impacto de la geografía sobre la historia y destino de las naciones. La ribera sur-oriental del mediterráneo es pulida y regular todo el camino desde el último puerto oriental de Egipto hasta el Mte. Carmelo. Por tanto, no había un puerto decente en toda la Palestina del sur. Jope y Dor fueron usados algunas veces como puertos de tiempo claro, pero difícilmente eran merecedores del nombre “puerto” (véase Jonás 1:3).

Los Filisteos que habitaron la porción sureña de la llanura costera se piensa que llegaron a Palestina desde el mar, quizás desde Creta. Después de establecerse en su nuevo hogar, literalmente volvieron sus espaldas al Mediterráneo. Gaza, la más sureña de las grandes ciudades Filisteas, era el centro de comercio más grande de la antigua Palestina, sin embargo estaba localizada a tres millas (4.8 kms.) tierra adentro.

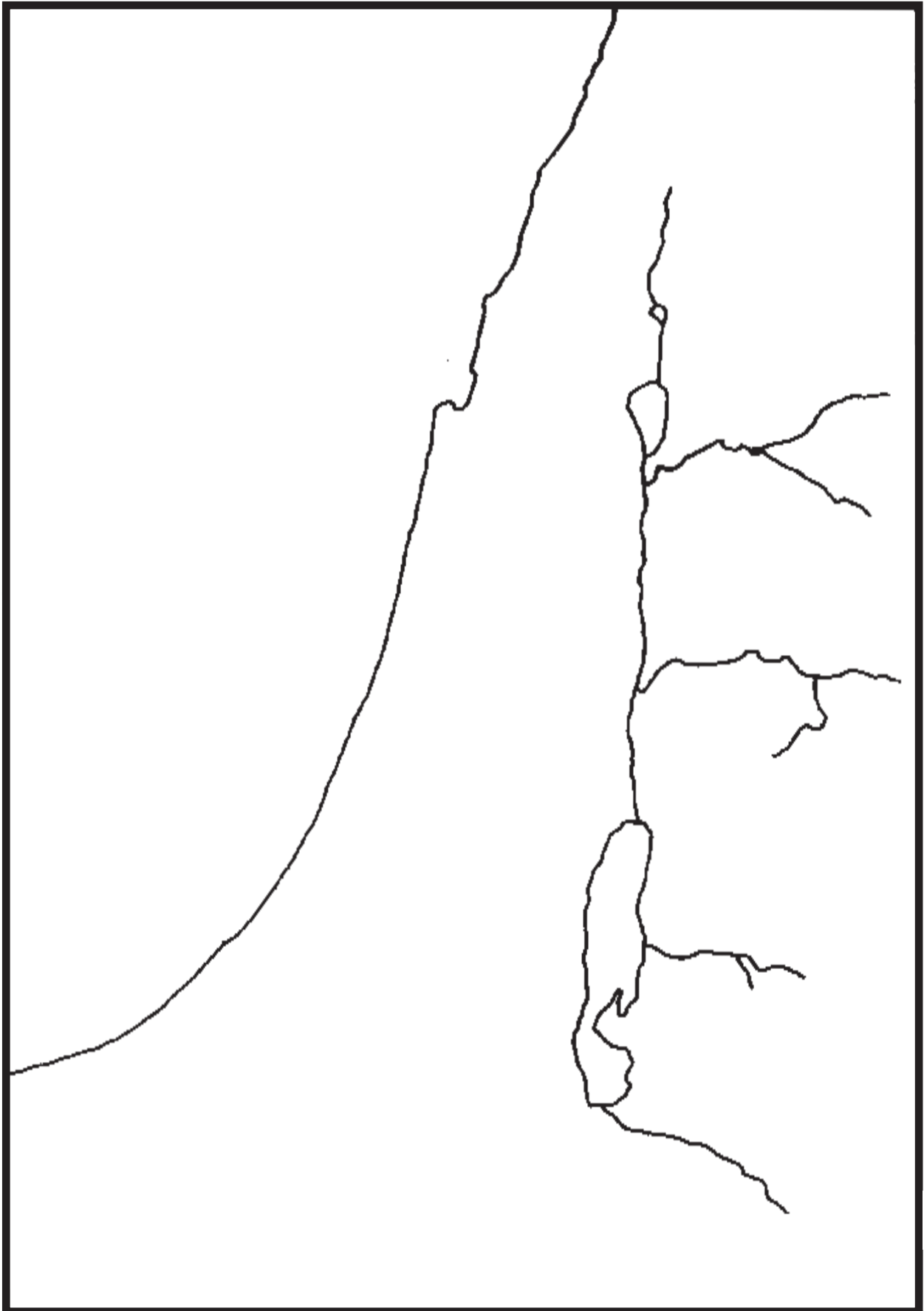
En contraste, al norte del Mte. Carmelo está la llanura de Aco y luego la angosta llanura de Fenicia. La llanura Fenicia era demasiado angosta, y sus montañas demasiado escarpadas para animar a un estilo de vida agrícola. Por tanto, dirigieron su atención al mar y usaron los excelentes puertos de Tiro y Sidón. Se convirtieron en los primeros marineros de los tiempos antiguos. Sería difícil presuponer su influencia cultural sobre el mundo Mediterráneo a medida que navegaban de puerto en puerto.

El Mar Mediterráneo juega un papel mucho más sobresaliente en la historia Bíblica para los días del Nuevo Testamento. Palestina estaba para entonces bajo el control de los Romanos cuya capital se hallaba instalada en Italia cruzando el Mediterráneo. Durante siglos, puertos como Jope y Dor fueron agrandados. Entre el 25-13 A.C., Herodes el Grande amplió una ciudad en la costa llamada la Ciudad de Estrato y construyó un puerto artificial muy costoso. Lo llamó la ciudad de Cesarea en honor de Augusto César. Se convirtió en el cuartel general militar para las legiones Romanas en Palestina y el puerto estuvo en uso regular. Por tanto, no es de sorprenderse que encontremos a Pablo y otros personajes del Nuevo Testamento viajando frecuentemente por barco y desembarcando en Cesarea.

Marque el Mar Mediterráneo en su mapa y coloréelo de azul. Asegúrese de marcarlo en cada mapa de aquí en adelante porque una porción de este se mostrará en cada mapa que usemos.

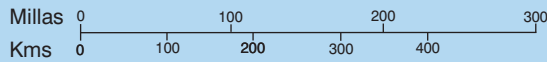
La Llanura Costera

La llanura costera varía en anchura desde cerca de 6 millas (9.6 kms.) en el norte hasta cerca de 25 millas (40 kms.) en el sur. Antes que una altiplanicie, es una área de lomas de 60-91 metros de altura. Toda la llanura es



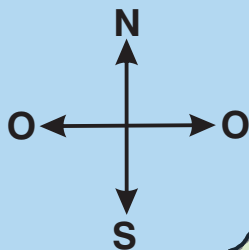
Mapa No. 1

PALESTINA: RASGOS FISICOS



Mar Mediterráneo

- I. Llanura Costera
- II. Región Montañosa
- III. Valle del Jordán
- IV. Altiplano Trans-Jordano



bien abundante en agua y fértil. El agua se filtra a través de la región montañosa central y finaliza en lagunas, saltos, y arroyos corriendo hasta el mar. Fue cultivada extensivamente, aún en la angosta llanura Fenicia.

La única interrupción en la llanura es el Mte. Carmelo que se proyecta hasta el mar. Su base se extiende hasta dentro de 182 mts. del Mediterráneo. Es como si en la formación de la tierra, una espuela de la montaña estuviera volteada de lado y reposara de noroeste a sudeste antes que de norte-sur como lo hacen las otras.

Desde el Mte. Carmelo, corre un valle hacia el sudeste cruzando la tierra desde Aco hasta el Río Jordán. Esta rica llanura fue llamada Jezreel en el Antiguo Testamento y más tarde Esdraelón por los griegos (Esdraelón es la palabra griega para la Hebrea Jezreel, “Dios siembra”). El Valle de Jezreel y la llanura costera formaron el paraje de huerto de la tierra.

Históricamente, la llanura costera estaba dividida en tres porciones. Ya hemos mencionado la estrecha llanura del norte Fenicio del Mte. Carmelo. Algunas veces los fenicios controlaron toda la llanura norteña del Carmelo. Si Israel fue lo bastante fuerte, el territorio Fenicio terminaba con un escarpado de piedra caliza llamado la Escalera de Tiro que reposa al oriente y occidente cruzando la llanura cerca de 16 millas (25.7 kms.) al norte del Mte. Carmelo.

La llanura de Sarón se extiende 45 millas (72.4 kms.) entre en el Carmelo y la ciudad de Jope. La llanura tiene entre 8 y 12 millas (12.8 y 19.3 kms.) de ancho. Era muy fértil y con tan abundantes fuentes de agua que realmente era cenagoso en algunas áreas. Fueron encontrados cocodrilos en algunos lugares. Los cananeos vivieron en Sarón después que fueron arrojados de la región montañosa. Esta sección de la llanura jugó solamente un papel menor en la historia bíblica.

Como ya hemos notado, los filisteos tuvieron control de la llanura sureña. Esta estaba cerca de 40 millas (64.3 kms.) desde Jope hasta Gaza. La llanura es de 12 a 25 millas (19.3 a 40.2 kms) de ancho aquí.

La ruta de negocios más activa en la tierra corría a través de la llanura costera, llamada el Camino del Mar o el Camino de los Filisteos. Venía desde Egipto en torno de la curva del Mediterráneo a través de la llanura filisteá. Luego giraba en dirección oriental y se iba a través de un desfiladero en la estribación del Carmelo en el valle de Jezreel. La ciudad de Meguido era una fortaleza que guardaba este importante desfiladero (o paso). Había otro camino que se ubicaba directamente a lo largo de la línea costera, pero era imposible defender si las tropas enemigas estaban estacionadas en las laderas del Mte. Carmelo. Por tanto, caravanas y ejércitos innumerables pasaron a través de Meguido y la llanura costera. La nación que controlaba Meguido controlaba la ruta a Egipto, Fenicia, Asia Menor, y Mesopotamia.

Marque la llanura costera, el Mte. Carmelo, el Valle de Jezreel y Meguido. Marque las secciones de la llanura Fenicia, Sarón, y Filisteá. Dibuje y marque la ruta comercial costera. Coloree la llanura y el valle con un verde claro.

La Región Montañosa

La región montañosa occidental del Jordán era la plaza fuerte israelita. Moisés describió las bendiciones que se hallaron en terreno montañoso en Deuteronomio 8:7 y 11:10-11. El pueblo había venido de Egipto donde tuvieron que regar sus siembras. En Canaán, encontrarían manantiales de aguas brotando de los montes.

En una ocasión, los Sirios concluyeron que el Dios de Israel era un “dios de los montes”. Para su consternación y espanto, descubrieron que el Dios de Israel también podía ganar en las llanuras (1 Reyes 20:23,28).

Cuando Josué introdujo el ejército israelita en la tierra, hallaron a los cananeos bien establecidos en todas las llanuras. Dios habría entregado todas las ciudades en manos de Israel si hubieran tenido la fe para completar la tarea que puso delante de ellos. Pero encontraron más fácil tomar y mantener la región montañosa sin desarrollo, y esta se convirtió en su hogar. (Véase Jueces 1:19; Josué 16:10; 17:12-18).

Hay una cadena de montañas (cordillera) que empieza en el litoral norteño del Mediterráneo y corre desde el sur a través de Siria, Palestina, y aún hasta la Península del Sinaí. Al norte de Palestina, la región montañosa que recorre se divide para formar dos cordilleras paralelas con la grieta del Valle del Jordán entre ellas. La región montañosa más cercana al mar es llamada el Líbano y la región montañosa al oriente es llamada el Anti-Líbano. Los picos altos del Líbano (por encima de 3.000 mts. de altura sobre el nivel del mar) al norte del Río Leontes y el Mte. Hermón exactamente al otro lado en la región montañosa del Anti-Líbano era considerada la frontera norteña de Palestina durante la mayor parte de la historia bíblica.

El Río Leontes corre a través de un desfiladero de 609 mts. entre el Líbano y los montes de Galilea y forma una barrera casi impasable entre Fenicia e Israel. La ciudad de Dan estaba localizada a través del valle desde los Líbanos hasta la base del Mte. Hermón.

Cuando los judíos quisieron madera de cedro del Mte. Líbano para edificar su templo, fue mucho más fácil tomar los troncos a través de la llanura y ponerlos a flotar mar abajo en el Mediterráneo hasta Jope que cruzar el Río Leontes y llevarlos a través de los montes y valles hasta Jerusalén (véase 1 Reyes 5:8-9).

La sección de 50 millas (80.4 kms.) desde el Río Leontes hasta el Valle de Jezreel usualmente es llamada Galilea. Los montes de la Alta Galilea son, en realidad, colinas al pie del Líbano. Toda la Alta Galilea tiende a ser elevada (encumbrada) y relativamente escarpada, promediando los 609 mts. sobre el nivel del mar. Algunos picos alcanzan casi los 1.219 mts.

Alta Galilea rara vez es mencionada en el Antiguo Testamento. El rey Hiram de Fenicia consideró que había recibido un mal negocio cuando le fueron dadas las veinte ciudades en Galilea como pago parcial por su ayuda en los proyectos de edificación de Salomón. Llamó la región Cabul o “buena para nada” (1 Reyes 9:11-13). Esta fue una fortificación cananea durante los primeros años de la historia israelita con una fuerte ciudad fortaleza como Hazor. Esta fue la primera región en ser atacada y tomada por los enemigos de Mesopotamia. No obstante, para los días del Nuevo Testamento, era una región activa y próspera. Galilea fue el escenario de algunas de las obras más grandes de Jesús.

Baja Galilea es mucho más baja, promediando los 213 mts. sobre el nivel del mar. Ninguno de sus picos excede los 563 mts. Las colinas están alrededor y hay valles amplios y ricos. Son 28 millas (45 kms.) desde Aco oriental hasta el Mar de Galilea.

El Valle de Jezreel está situado en la porción sureña de Galilea. Técnicamente, no es un valle continuo, sino más bien una serie de valles y llanuras que se abren conjuntamente. La Bahía de Aco a lo largo del litoral se abre a la amplia rica llanura de Jezreel o Esdraelón. Esta llanura es aproximadamente 15 por 15 por 20 millas en tamaño (24 por 24 por 32 kms.). Varios pasos se abren en él desde todos los lados haciendo fácil el acceso a éste y convirtiéndolo en una de las secciones de la tierra más importante comercial y militarmente. La porción occidental de la llanura es desaguada por el Río Cisón que desemboca en el mar exactamente al norte del Mte. Carmelo. Usualmente el río es pesado y casi de inexistencia en el verano, pero podría estar crecido y rápido después de las lluvias de invierno. Muchos eventos importantes ocurrieron en la región. Jesús creció justo al otro lado de la cordillera desde Esdraelón en Nazaret.

El Valle de Esdraelón se inclina en un valle profundo cerca de 15 millas (24 kms.) al oriente del Río Jordán. Esta porción del valle aún retiene el antiguo nombre de Jezreel de la ciudad localizada en su margen occidental. Las tribus merodeadoras del Oriente a menudo cruzaron el Jordán en algún vado y siguieron el norte del Valle del Jordán para entrar en la tierra a través del Valle de Jezreel. Este fue el escenario de la batalla de Gedeón con los Madianitas.

Marque las montañas del Líbano y Anti-Líbano, el Río Leontes, Galilea, el Río Cisón, y Aco. Escriba Esdraelón en paréntesis bajo Jezreel en su mapa.

Las colinas se levantan rápidamente de nuevo en la margen sureña de Jezreel para reanudar la región montañosa central. Algunos picos son altos y bastante escarpados, pero están separados por valles anchos y espaciosos. Los picos más altos están un poco por encima de 914 mts. – no tan altos como aquellos en la Alta Galilea. Esta porción central de montañas usualmente era llamada la región montañosa de Efraín en el Antiguo Testamento y Samaria en el Nuevo.

Tres de los picos mejor conocidos del área son el Mte. Gilboa en la margen del Valle de Jezreel, y el Mte. Ebal y el Mte. Gerizim en cualquier lado de Siquem. Fue en Siquem donde Dios prometió primero dar la tierra a los descendientes de Abraham (Gén. 12:6-7). Fue aquí donde Josué y su ejército levantaron un monumento y expusieron su reclamo de la tierra (Jos. 8:30-35). Este fue un sitio apropiado para que Dios escogiera porque uno puede conseguir una vista excelente de la tierra desde los picos de las montañas. El Mediterráneo puede ser visto 25 millas (40 kms.) al occidente. Al oriente está la abrupta precipitación hacia el Río Jordán y luego la pared más allá de la meseta de Galaad. Al norte están los ricos campos de Jezreel (“Dios siembra, o esparce”). Y al sur, continúa la región montañosa. El paso principal en el camino norte-sur estaba localizado aquí y, en la margen oriental del paso, los caminos corren en todas las direcciones en la tierra.

La región montañosa de Judá era una extensión de tierra de unas 50 millas (80 kms.) promediando cerca de 609 mts. sobre el nivel del mar. Ninguno de sus picos son tan elevados como aquellos en Samaria o Galilea. Hay puntos altos alrededor de Jerusalén y aún más altos justo al norte de Hebrón. Los valles son poco profundos y las montañas como cúpulas.

El lado occidental de la región montañosa judeana se inclina gradualmente hacia las colinas y valles elevados de Sefela y luego a la llanura costera. La Sefela tiene collados bajos, gredosos, separados por valles amplios, agradables. Era fértil y bien abundante en agua. Estas colinas quebradas ayudaron a formar una línea de defensa entre los israelitas y cualquier enemigo moviéndose a lo largo de la llanura costera; por eso tales ciudades fortaleza en Laquis, Debir, Libna, y Bet-semes son mencionadas frecuentemente en la historia bíblica.

Hay una abrupta caída en el lado oriental de las colinas Judeanas. Belén está a 1.158 mts. sobre el Mar Muerto a sólo 14 millas aéreas (22 kms.) de distancia. Desde el Monte de los Olivos hasta el Mar Muerto, la tierra desciende de 816 mts. *sobre* el nivel del mar hasta 393 mts. *por debajo* del nivel del mar. En menos de 20 millas (32 kms.) la tierra se precipita desde una cordillera montañosa hasta el punto más profundo sobre la tierra encontrado en el planeta. Las inclinaciones son extremadamente escarpadas – una tierra inhabitada, salvaje, estéril. Es llamada el Desierto de Judea. Fue aquí que David se escondió en cuevas cuando Saúl estaba tratando de matarlo (1 Sam. 24:1 y Sigs.). Fue probablemente aquí donde Jesús fue tentado por el diablo (Mat. 4:1).

Hay una explicación climática interesante para este árido desierto. La humedad desde el Mediterráneo llena las nubes que son llevadas en dirección oriental hacia la masa de tierra de Palestina. A medida que el aire se levanta, este es enfriado o compactado y caen las lluvias en la región montañosa. No obstante, cuando el aire pasa sobre la cumbre de las colinas, el fondo literalmente desaparece. El aire se expande rápidamente a medida que desciende en el Valle del Jordán. Expandiéndose el aire chupa la humedad antes que soltarla. El Desierto de Judea está justo sobre la cumbre de las colinas. Por tanto, casi nunca recibe lluvia, y la proporción de evaporación en el Mar Muerto es extraordinaria.

Al sur de Hebrón las colinas descienden gradualmente hasta las colinas onduladas del Neguev (llamadas “el sur” en la versión King James). El nombre es aplicado usualmente a la región semidesértica entre Beerseba y Cades-barnea. Era bastante fértil inmediatamente después de las lluvias de invierno pero tan árido y reseco como un desierto en el verano.

Abraham encontró buena agua en algunos pozos que excavó en la margen sureña de la tierra cultivable. Naturalmente el agua es de principal importancia en una región seca, por eso el pueblo de Beerseba se levantó alrededor de los pozos. Usualmente es nombrado como el punto sureño del territorio Israelita. Israel controló políticamente algunas veces el Neguev, pero fue más por el control de los minerales en la región que como un hogar para el pueblo.

El Neguev forma una zona de parachoques entre Canaán y el verdadero desierto de la Península Sinaítica.

Una ruta comercial corre a lo largo de la columna de la región montañosa occidental, continuada a través del Neguev, y hacia Egipto. Fue llamada el Camino de Shur. Esta ruta hubiera sido ocupada con los israelitas, pero rara vez fue usada por las caravanas viajando grandes distancias.

Coloree la región montañosa de amarillo. Marque los picos mejor conocidos y las colinas descendentes – el Mte. Tabor, el Mte. Gilboa, el Mte. Ebal, el Mte. Gerizim, y el Mte. de los Olivos. Marque las ciudades de Dan, Siquem, Jerusalén, Belén, Hebrón, y Beerseba. Marque el Neguev. Marque el valle (o uadi) llamado el Río de Egipto y anótelo como la frontera sureña de Canaán a lo largo de la línea costera. No lo confunda con el Río de Egipto mucho más grande, el Nilo.