

Lección 10

Las Promesas a Abraham

Génesis 11:27–25:10

(Los pasajes están en Génesis a no ser que se especifique de otra manera)

Hubo muchos, muchos pueblos en existencia para el 2.000 A.C. Naciones ya se habían levantado y caído. Las pirámides de Egipto ya habían sido construidas. En efecto, Egipto ya estaba siendo gobernado por su doceava dinastía para esa fecha. Tome un mapa nuevo y mire las condiciones del mundo en los días de los Patriarcas.

Mapa #4 – El Mundo de los Patriarcas

Marque y numere su mapa. Marque las direcciones.
Coloree los mares.

Marque lo siguiente:

Sumeria	Canaán	Montes Ararat
Elam	Mari	Reino Hitita
Akkad	Nínive	Aram
Babilonia	Desierto Arábigo	Montes Zagros

Egipto

Encuentra cada lugar nuevo a medida que lo estudie en el texto.

Compare sus Mapas #3 y #4. Ahora compare los Mapas #2 y #4. ¿Ves que el Mapa #4 ha alargado la sección que coloreaste de verde en el Mapa #2?

Durante todos los años desde la Creación, Dios había tratado con todos los hombres de la misma forma. Bendijo a los justos y mostró Su desaprobación hacia los impíos. Finalmente, llegó el día cuando decidió separar un hombre a través de quien cumpliría Su promesa. Llamó a un hombre llamado Abram, más tarde lo llamó Abraham, y le dijo que dejara su familia y se fuera a una tierra nueva.

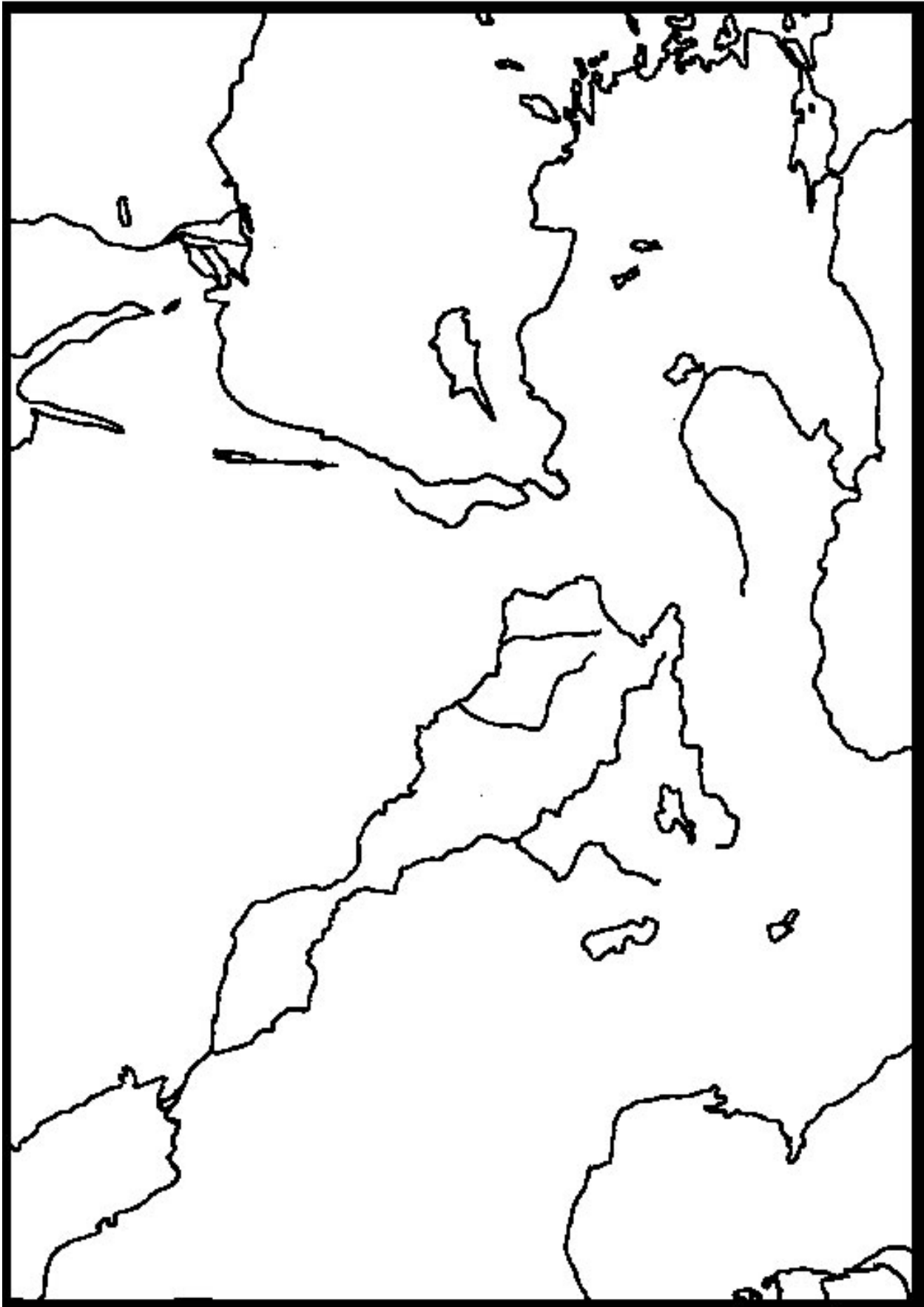
En este tiempo, Abraham estaba viviendo en _____ de los _____ (11:31), una de las ciudades-estado de Sumeria. Ur es un buen ejemplo de una ciudad primitiva. Allí han sido hechas excavaciones en grande escala. Ahora es evidente que ella era una de las ciudades más grandes y progresivas del mundo antiguo. Algunos eruditos calculan que su población fue tan grande como aproximadamente un cuarto de millón. Habían elaborado un sistema de escritura, medios avanzados de cálculos matemáticos, registros religiosos, refinadas muestras de arte, un sistema escolar, y muchas otras cosas que el hombre encuentra necesarias para la civilización. Aparentemente Abraham asistió a la escuela y fue enseñado a leer, escribir, y a tener un oficio. Puede parecer extraño para nosotros dejar las comodidades de una ciudad para tomar un vida nómada como él lo hizo. Lea Hebreos 11:8-10 para encontrar una explicación para sus acciones.

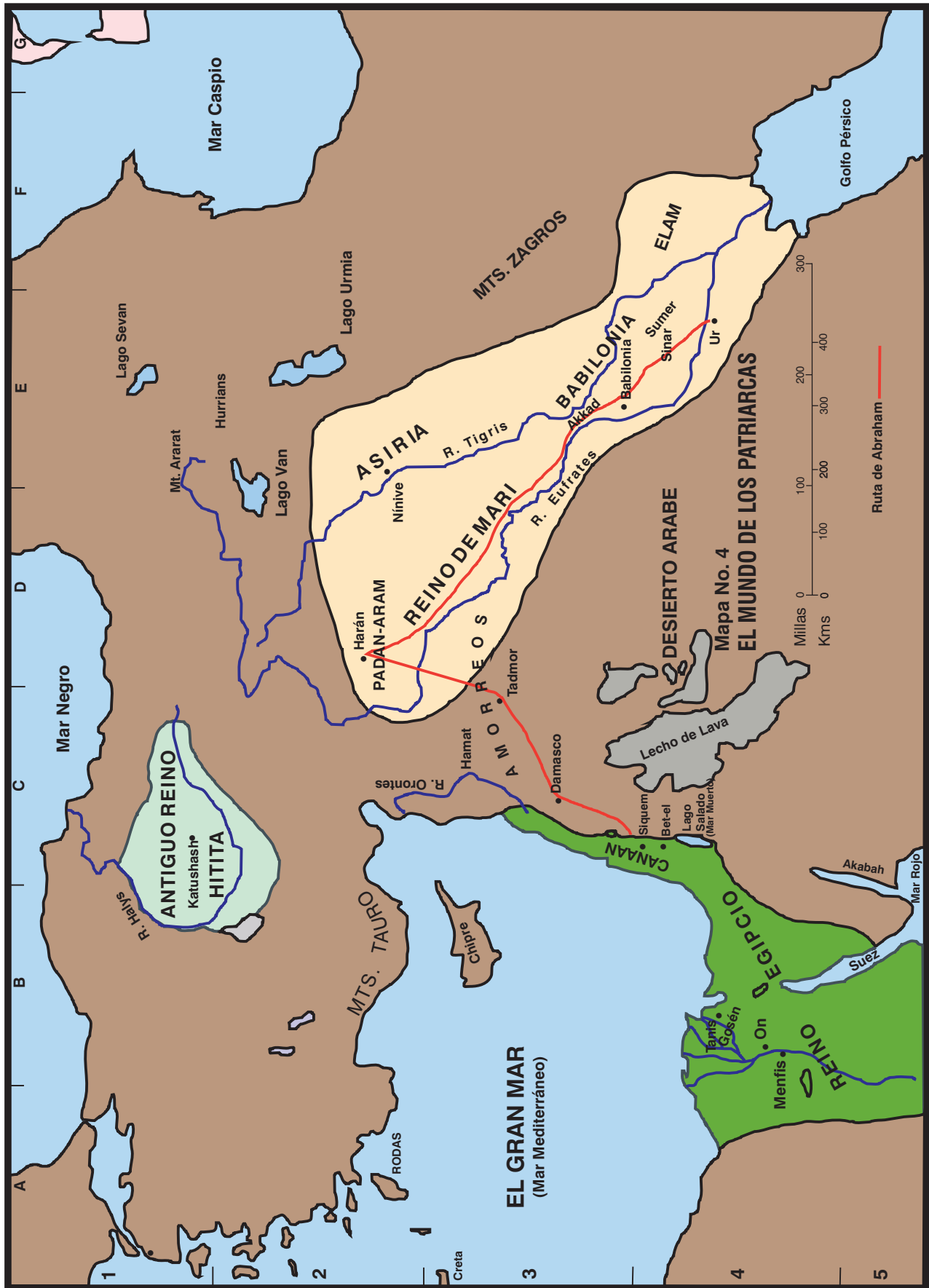
Fue aproximadamente 1900 ó 2000 años antes de que Cristo naciera cuando Dios le dijo a Abraham que dejara su hogar para ir *“a la tierra que te mostraré”* (12:1). El y su familia dejaron inmediatamente Ur sin cuestionar y viajaron aproximadamente 965 kilómetros (600 millas) al noroeste hasta que llegaron a la ciudad de _____ (11:31). Este era una importante plaza comercial de su día en el área llamada Padán-Aram. El hermano de Abraham, Nacor, se estableció allí permanentemente. Al mandato de Dios, Abraham dejó Harán y viajó a la pequeña tierra de _____ (12:5), aproximadamente 643 kilómetros (400 millas).

La Biblia no nos dice la ruta exacta que tomó Abraham a medida que hizo su viaje desde Harán hasta Canaán. Casi con certeza el siguió las rutas comerciales de su día, dirigiéndose desde Harán al sur hasta Tadmor y del sudoeste hasta Damasco. Desde Damasco, tuvo al menos tres elecciones. Pudo haber seguido el camino que bordeaba la base del Monte Hermón y cruzaba el río Jordán al norte del Lago de Hulé, cerca de la fuente del río. Una segunda ruta cruzaba el Jordán cerca de 9.6 kilómetros (6 millas) al norte del Mar de Galilea. Esta era quizás la ruta comercial más transitada. Se unía a la primera ruta occidental del río y hacia su camino a través de Canaán y descendía la llanura costera hasta Egipto, el Camino del Mar.

La tercera elección de Abraham fue viajar por el Camino del Rey al lado oriental del Jordán y tomar cualquiera de las rutas menores que cruzaban el río en algún punto vadeado. Esta es la ruta que parece más lógica, porque su primer lugar de acampamento en la tierra fue _____ (12:6) en el centro de la tierra. Por tanto, nuestro mapa muestra su probable ruta, avanzando hacia el sur desde Damasco hasta que llegó al río Jaboc y luego volviéndose casi derecho hacia el oeste y cruzando el Jordán cerca del punto donde Jaboc entra al río. Desde el Jordán, se trasladó del Uadi-Fari hasta Siquem.

Dios prometió hacer una gran nación de los descendientes de Abraham. Le dijo que todas las naciones de





la tierra serían benditas a través de Uno que saldría de esa nación (Gén. 12:1-3; véase también Gál. 3:16). Ahora, en _____ (12:6-7), Dios prometió darle la tierra de Canaán a esa nación. Abraham mismo nunca poseyó un centímetro de la tierra excepto la cueva que compró en la que sepultó a su esposa Sara, aún así su fe nunca tambaleó en el poder de Dios para guardar Sus promesas (15:6). *Toda la porción restante de la Biblia es la historia del cumplimiento de estas tres promesas: la nación, la tierra, y Aquel que bendeciría a todas las naciones.*

En ese tiempo la tierra estaba habitada por un grupo de tribus colectivamente llamadas los cananeos o los amorreos (véase 10:6,15-19). Adoraban los dioses de la fertilidad llamados Baal, con su contraparte femenina llamado Astoret entre otros nombres. Dios le dijo a Abraham que algún día expulsaría a los amorreos, porque “*aún no ha llegado a su colmo la maldad ...*” (15:16).

La riqueza de Abraham consistía en gran parte de ganado y ovejas. En vista de que la tierra no estaba muy poblada, pudo moverse de un área a otra cuando la hierba empezaba a escasear. Después de algún tiempo en Siquem, se trasladó 32 kilómetros abajo (20 millas) al campo central de las montañas e instaló su tienda entre _____ al occidente y _____ al oriente (12:8). Gradualmente se trasladó más al sur hasta que estuvo acampando en la margen del _____ (12:9). Otras versiones lo llaman “al sur”, pero nuestro mapa de los rasgos físicos nos dice cómo era llamado este país al sur semi-desierto.

Surgió un hambre en la tierra y Abraham tomó su familia a _____ (12:10), aproximadamente 321 kilómetros (200 millas). El y Sara estaban viajando como hermano y hermana porque él temía que alguien pudiera matarlo para tenerla a ella (véase 12:10-20; 20:1-18). Faraón le ordenó a Abraham que dejara su tierra cuando se enteró del engaño.

Abraham retornó a _____ (13:3) en la región montañosa central.

Trace una línea punteada alrededor de la tierra de Canaán. Haga una línea roja trazando el viaje de Abraham desde Ur hasta Harán, hasta Canaán, hasta Egipto, y regresando a Canaán.

Ya hemos llenado dos mapas en nuestro estudio de la historia y geografía bíblica correlacionada, pero solamente nos han llevado a través de Génesis 12. El resto del libro continúa la historia de Abraham en la tierra de Canaán, seguido por las historias de Isaac, Jacob, y José. El mapa del Mundo de los Patriarcas (#4) incluye el territorio de Canaán, pero es una descripción muy pequeña en esa escala. Necesitamos un mapa más grande para mostrar los detalles.

Mapa #5 – Canaán, En los Días de los Patriarcas

Marque y numere su mapa. Marque las direcciones.

Marque y coloree el Mar Mediterráneo.

Marque los lugares que ya hemos estudiado:

Siquem

Betel

Neguev

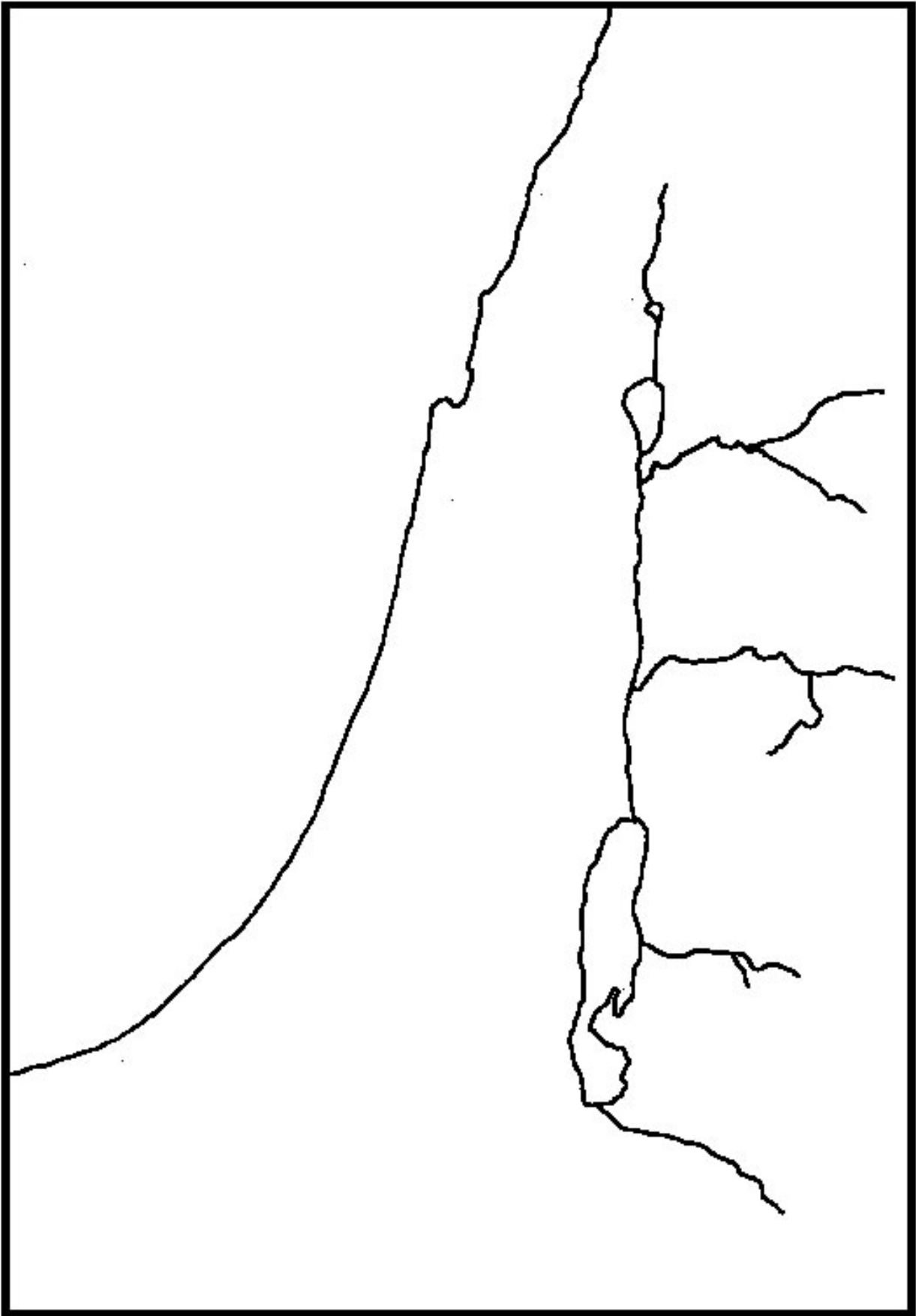
Marque cada lugar nuevo a medida que llegue a este en el texto.

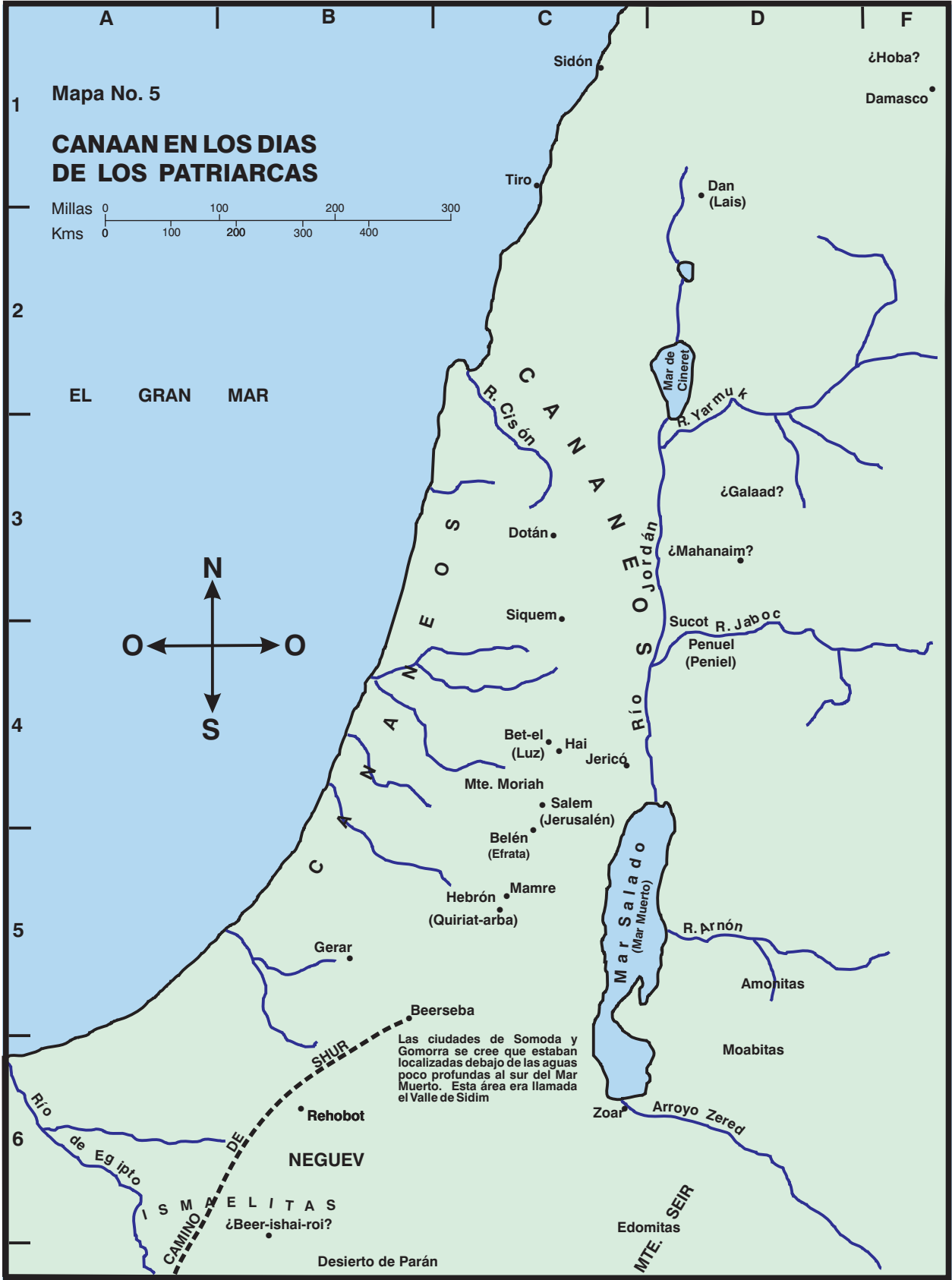
Lot, el sobrino de Abraham, había estado viajando con él desde que salieron de Harán. Para ahora ambos eran muy ricos, y sus siervos empezaron a contender por el agua y los derechos de los pastos. Estaban viviendo en _____ (13:3) cuando Abraham le dijo a Lot que mirara en todas las direcciones y escogiera la dirección a la que quería moverse. Abraham tomaría el otro camino. Lot escogió la bien irrigada _____ del _____ (13:10). Desafortunadamente, encontró más que hierba fértil. Las extremadamente impías ciudades de _____ y _____ (13:10-13) estaban localizadas en la llanura, y pronto hallamos a Lot viviendo dentro de Sodoma.

Abraham se trasladó lejos al sur en la tierra después que dejó a Lot. Moró en un lugar llamado el Encinar de _____ (13:18). Mamre era un hombre, aparentemente otro miembro de una tribu riquísima como Abraham. De Mamre, Aner, Escol y Abraham es dicho que eran aliados (14:13). Esta ubicación ilustra las condiciones a ser encontradas en la tierra en este tiempo. Aunque había algunas ciudades en existencia con murallas, una gran porción de la tierra no estaba densamente poblada. Aquí está Abraham, morando en tiendas, en un valle llamado así por uno de los hombres que vivía allí. Gradualmente, una aldea creció cerca a ellos. Mamre no aparecerá en la mayoría de nuestros mapas. Más bien, es mostrada por el nombre del pueblo que creció en el lugar – _____ (13:18). Moisés, el historiador, se asegura de que entendamos que Mamre y Hebrón son lo mismo.

Coloque Encinar de Mamre en su mapa con Hebrón entre paréntesis.

Egipto tenía control nominal sobre Canaán en este punto particular de la historia, pero, en realidad, jugaron un papel muy pequeño en el vivir diario de las personas de la tierra. Cada ciudad de algún tamaño tenía su





propio rey que controlaba los asuntos locales. Mientras pagara impuestos a Egipto, el Faraón usualmente estaba satisfecho. Hay evidencia arqueológica de que hubo algún desasosiego en la tierra. Ocasionalmente las ciudades fueron atacadas y quemadas. Posiblemente hubo ataques ocasionales desde Egipto si una ciudad fallaba en responder como el Faraón pensaba que debía hacerlo; o hubo invasiones de tribus desde el desierto buscando mas tierra; o rivalidades entre las mismas ciudades-estado. No obstante, la mayoría de la veces, Abraham vivió en paz y le fue permitido trasladarse en la tierra como él escogiera.

En una ocasión, cuatro reyes de Mesopotamia oprimieron las ciudades de la llanura cerca del Mar Muerto (14:1). Recuerde, había rutas comerciales principales que pasaban a través de la tierra de manera que hubo conflictos frecuentes a través de los años por su control. Las ciudades de la llanura se rebelaron, y en una batalla que ocurrió en el _____ de _____ (14:8) en el extremo sureño del Mar Muerto. Los reyes de Mesopotamia fueron los victoriosos, y tomaron cautivos al pueblo de _____ y _____ (14:11). Abraham y sus aliados persiguieron el ejercito hasta _____ y cayeron sobre ellos en _____ al norte de _____ (14:14-15).

¿En qué mapa encontrarías Sinar y Elam? _____ Asegúrese de que sean marcados. ¿Cuáles ciudades de la llanura ya hemos localizado?

Melquisedec, rey de _____ (14:17-18) y sacerdote del Dios Altísimo salió al encuentro de Abraham cuando volvía de la batalla. Melquisedec bendijo a Abraham, y Abraham le mostró respeto por medio de darle “los diezmos de todo”. La misma ciudad fue llamada más tarde “U-ru-salem”, literalmente “una ciudad de Salem” o “una ciudad de paz”. El nombre llega hasta nosotros como Jerusalén, destinada a convertirse en la ciudad de los judíos mejor conocida.

Dios hizo Sus promesas a Abraham en forma de pacto en Génesis 15. Dijo que daría a los descendientes de Abraham toda la tierra desde el _____ de _____ hasta el río _____ (15:18).

¿El Mapa #5 muestra el Eufrates?

En este punto Abraham no tenía hijos. A la sugerencia de Sara, tomó a su sierva Agar como su concubina. Agar era de _____ (16:1). Los celos surgieron entre las mujeres y Agar huyó. Viajó descendiendo el camino de _____ (16:7), ciertamente casi con la intención de regresar a Egipto. Dios se le apareció y le dijo que volviera. Ella llamó el lugar _____ (16:14), el “Pozo del Dios-que-me-ve”.

Dios le dijo a Abraham que bendeciría al hijo Ismael que le nacería, pero que él no era el hijo prometido a través de quien serían cumplidas las promesas. El rito de la circuncisión fue dado como señal del pacto entre Abraham y Dios. El y todos sus descendientes varones debían ser circuncidados como señal de que cada uno era heredero de las promesas con respecto a la nación y la tierra. La promesa fue alargada en esa ocasión para decirle a Abraham que sería el padre de “muchas naciones” y su nombre fue cambiado de Abram a Abraham.

Abraham aún estaba viviendo en el _____ de _____ (18:1) cuando tres ángeles lo visitaron. Aparecieron como viajeros, y Abraham los trató con hospitalidad. Después que comieron, los tres iniciaron su camino hacia _____ (18:16). Uno de los tres, “el Señor”, dijo a Abraham que habían venido para destruir a Sodoma y Gomorra. Abraham suplicó por las ciudades y el Señor prometió perdonarlas si podían ser hallados diez justos.

Los otros dos ángeles continuaron hacia Sodoma y pasaron la noche en la casa de Lot. El pecado de la ciudad era grande. Ni aún los yernos de Lot pudieron ser persuadidos para que escucharan las advertencias de destrucción. Lot, y sus dos hijas huyeron a la aldea cercana de _____ (19:22) la cual fue perdonada por causa de ellos. Luego, cuando el sol se levantó, Dios hizo llover fuego y azufre sobre Sodoma y Gomorra. Ningún rasgo ha sido encontrado jamás de las ciudades. Es pensado que pudieron haber estado en la inclinación sureña del Mar Muerto y ahora están cubiertas con agua. La tierra en el extremo sureño del Mar Muerto es tan árida ahora que nadie la escogería como un buen lugar para el ganado. Nótese que el escritor tiene dolor al decir que el área era fértil antes de que vinieran la calamidad de parte de Dios (13:10-13). Zoar ha sido localizada, y Sodoma estaba cerca de ésta (19:20-22).

Lot y sus dos hijas fueron al oriente del Mar Muerto. Allí las hijas cometieron incesto con su padre, y cada una tuvo un hijo de él. Un hijo se convirtió en el padre de los _____ y el otro en el padre de los _____ (19:37-38). Desde este momento en adelante, encontraremos las tribus de los moabitas y los amonitas viviendo en este altiplano oriental.

Abraham de nuevo se trasladó al sur, esta vez a la ciudad de _____ (20:1). Una vez mas Abraham ocultó el hecho de que Sara era su esposa, y Abimelec el rey, la tomó para sí. Dios intervino, y Abimelec los reprendió a ambos por su engaño. No obstante, le permitió a Abraham que se quedara en cualquier parte que escogiera en su territorio.

Isaac, el hijo prometido a Abraham, finalmente nació y Sara se regocijó. A medida que el niño crecía, Sara se volvió temerosa de que Ismael pudiera participar de la herencia que correctamente le pertenecía a Isaac. Demandó que Ismael y Agar fueran despedidos. Ismael tenía 14 años cuando Isaac nació, y esto fue algún

tiempo después, de manera que él ya no era un niño indefenso. Dios le dijo a Abraham que hiciera como Sara le había solicitado, de manera que Agar y su hijo se fueron.

La naturaleza humana nos ayuda a entender la reacción de Agar a medida que entra en el árido Neguev. El agua se ha acabado. Ellos han sido despedidos del hogar que han conocido por años. El futuro parece desierto. “Mi hijo morirá”. Dios la tranquilizó por medio de darle su agua milagrosamente. Ismael creció hasta convertirse en hombre en el desierto de _____ y su madre le encontró una esposa en _____ (21:20-21). Sus descendientes se convirtieron en una de las tribus nómadas del desierto quienes se ganaban la vida por vía de las rutas de las caravanas (véase 25:12-18).

Mientras tanto, Abraham se trasladó varios kilómetros al oriente de Gerar. Para ahora su compañía era muy grande, y su riqueza lo convirtió en un hombre poderoso. Nótese que había sido capaz de tomar 318 de sus propios hombres cuando rescató al pueblo de Sodoma (14:14). Abimelec de Gerar hizo un tratado de paz con él. Sellaron el pacto entre ellos, y Abraham llamó el lugar _____ (21:31), significando “el pozo del juramento”. Los pozos localizados aquí estaban en la margen sureña de la tierra cultivable. El muy seco Neguev yacía justo al sur. Por tanto, no es de sorprenderse que creciera una aldea alrededor de los pozos. Muchos años después, Beerseba marcó la frontera sureña de Israel.

El tiempo pasó y Dios le dio a Abraham la más grande prueba de su fe. Dios le dijo que llevara a su hijo Isaac a la región de _____ (22:2) y lo ofreciera como sacrificio. Abraham se levantó sin cuestionar y viajó al norte hasta el lugar especificado. El ángel del Señor detuvo a Abraham cuando levantó su cuchillo para matar a Isaac. “... *porque ya conozco que temes a Dios, por cuanto no me rehusaste tu hijo, tu único*” (22:12). La ubicación exacta del Monte Moriah es incierta. La tradición judía lo identifica como el monte donde el templo fue construido muchos años después.

Abraham retornó a _____ (22:19) después de ofrecer a Isaac. Pero pasó más tiempo, y lo encontramos viviendo en _____ (23:2) cuando ocurre la siguiente historia. Sara murió. Abraham compró un campo conteniendo una cueva llamada _____ de un hombre llamado Efrón quien era un hijo de _____ (23:17-19). Al avanzar la historia, aprendemos que Abraham, Isaac, Rebeca, Lea, y Jacob, todos fueron sepultados en la misma cueva con Sara.

Mire el Mapa #4 para encontrar el hogar original de Efrón.

Isaac era un hombre maduro para el tiempo en que su madre murió. Era el tiempo para que Abraham arreglara un matrimonio para él. No quiso que Isaac se casara con una de las hijas impías de los _____ (24:3). Por tanto, envió su siervo de regreso a la casa de su hermano Nacor en la región de Mesopotamia. La prima de Isaac, Rebeca, fue persuadida para que regresara con el siervo. Ellos encontraron a Isaac viviendo en _____ (24:62).

¿Cuál mapa necesitamos para encontrar la ciudad de Harán donde vivía la familia de Nacor?

En algún punto en la historia, Abraham tuvo otros seis hijos con una concubina llamada Cetura (25:1). Abraham también les dio dones antes de morir y los envió lejos a la tierra del oriente. Sus descendientes unieron fuerzas con los ismaelitas, y se convirtieron en mercaderes muy ricos en las rutas de las caravanas. Los nombres madianitas e ismaelitas son usados intercambiabilmente en diferentes ocasiones (véase 37:25,28,36; Jueces 6:3; 8:24).